



المادة: إدارة المصارف
المرحلة: الثالثة
التاريخ: / / 2023
الزمن: ساعتان

أسئلة الامتحان النهائي للكورس الأول
لعام الدراسي 2022/2023

جامعة البصرة
كلية الإدارة والاقتصاد
قسم العلوم المالية والمصرفية

ملاحظة : اجب عن اربع أسئلة ولكل سؤال 12,5 درجة

س1 : وضح بالتفصيل ما يلي : (12,5 درجة)

- 1- ما هي سيولة المصرف ؟ وما هي العوامل التي تؤثر عليها ؟
- 2- ما هي نظريات التي ناقشت سيولة المصرف ؟

س2: عرف الوديعة المصرفية وما هي أركانها ؟ وما هي الاستراتيجيات التي يمكن ان تعتمدھا المصارف لزيادة جذب الودائع ؟ وضح ذلك بالتفصيل ؟ (12,5 درجة) .

س3: توفرت البيانات التالية في سجلات مصرف الشرق الأوسط فرع البصرة الخاصة بالحساب الجاري لشركة الرافدين التجارية , وكان رصيده في بداية العام 2022 هو 200 مليون فاصبح في نهاية العام 100 مليون , اذا علمت ان عمليات الخاصة لحساب الشركة خلال العام 2022 كانت كما يلي : (12,5 درجة)

- 1- عدد الشيكات المسحوبة على الشركة 5000 شيك , تكلف إجراءات تسديد الواحد منها 300 دينار .
- 2- عدد الشيكات المسحوبة لحساب الشركة على الآخرين 1200 شيكاً , تكلف إجراءات تحصيل الواحد منها 400 دينار.
- 3- حجم الخدمات المجانية الاستشارية المقدمة إلى الشركة كلفت المصرف 300000 دينار .
- 4- حصلت الشركة على جائزة من المصرف بمبلغ 150000 دينار .
- 5- كانت نسبة الاحتياطي القانوني المفروض على المصرف هي 20% ومعدل العائد على الاستثمار 9% .
المطلوب / استخراج تكاليف حساب الشركة لدى المصرف والعائد المتحقق من قبل المصرف ؟

س4 : ظهرت البيانات التالية في سجلات مصرف الأهلي التجاري للأعوام 2021 و 2022 وكما يلي : (12,5 درجة)

البيان	البيانات المالية 2021	البيانات المالية 2022
حق الملكية	400000	600000
مجموع الودائع	250000	400000
أجمالي الأصول	200000	300000
الأرباح قبل الضرائب	110000	165000
الضريبة	10000	15000

المطلوب / تقييم وقياس ربحية مصرف بغداد التجاري ؟

س5 : ظهرت البيانات المالية التالية في سجلات المصرف بغداد التجاري في 2021/12/31 وكما يلي : (المبالغ بالملايين)
الودائع الجارية 450000 دينار , الودائع التوفير 350000 دينار , الودائع الثابتة 250000 دينار , القروض وحق الملكية
200000 دينار .

قام المصرف بتوزيع أموال المصادر والسياسات الثلاثة بنسب التالية : (12,5 درجة)

الودائع الجارية (الاحتياطيات الأولية 60% , الاحتياطيات الثانوية 30% , القروض والسلف ؟) , الودائع التوفير
(الاحتياطيات الأولية 40% , الاحتياطيات الثانوية 50% , القروض والسلف ؟) , الودائع الثابتة (100% القروض
والسلف) , القروض وحق الملكية (القروض والسلف 40% , الاستثمارات طويلة الأجل ؟) .

الاستخدامات	السياسة المتحفظة	السياسة المعتدلة	السياسة المخاطرة
الاحتياطيات الأولية	35%	؟	20%
الاحتياطيات الثانوية	20%	15%	؟
القروض والسلف	؟	55%	65%
الاستثمارات ط , ج	5%	5%	5%

المطلوب : 1- وضح مع الرسم أسلوب مخصص الأموال ؟

2- وضح مع الرسم أسلوب مجمع الأموال على وفق السياسات الثلاثة ؟

تمنياتي لكم بالنجاح

ا.د. منتظر فاضل سعد

مدرس المادة

أ.د. نعيم صباح جراح

م.د. احمد رسن البهادلي
مدرس المادة
رئيس القسم

المرحلة : الثالثة
المادة : اسواق المال
التاريخ : / 1 / 2023
الوقت : ساعتين



جامعة البصرة
كلية الادارة والاقتصاد
قسم العلوم المالية والمصرفية
الدراسين الصباحية و المسائية

أسئلة الامتحان النهائي الدور ()

ملاحظه :- 1- اكتب رقمين بعد الفارزة و ثلاثة ارقام عند احتساب الفرق بين معدلات الفائدة .

2- الاجابة على اربعة اسئلة فقط .

س(1) ضع العلامة المناسبة امام العبارات التالية :- اجب على خمسة فقط . (10)

- 1- يعد المتعاملون في اسواق المال من اهم العناصر في السوق .
- 2- اليورو دولار ذات سيولة اقل و اكثر مخاطر من شهادات الايداع المحلية .
- 3- تحديد معيار اختيار المشروع يعد من مبادئ السندات الخضراء .
- 4- سلسلة مؤشرات NASDAQ تتكون من اربع مؤشرات منفصلة .
- 5- يمكن استخدام نظم المعلومات كأداة لقياس كفاءة و فاعلية اسواق المال .
- 6- على المستثمر المعرفة التامة بالمعلومات التي تخص جهة اصدار الاوراق المالية و هذا ما يعرف بالتحليل الفني .

س(2) تسعى شركة رياح بغداد لإصدار سندات لمدة 9 سنوات لتمويل التوسعة في خط انتاجي بإصدار 6800 سند , بقيمة اسمية 148 دينار للسند الواحد و بسعر فائدة ربع سنوي 2% ، و طلب مصرف شرق الاوسط عمولة 3% لتوزيع السندات ، علما بان تكاليف الرهن و اصدار السندات كانت 1500 و 5500 دينار على التوالي . المطلوب حساب معدل التكلفة و توضيح الجدوى اذا علمت بان سعر الفائدة في النظام المصرفي كان 9% . (13)

س(3) اجب باختصار على سبعة فروع فقط . (14)

أ- فسر احتمالية تحقق العائد 0.14 .

ب- بافتراض شرائك سهم بقيمة 80 دينار و حصولك على عائد 7 دينار و اصبحت قيمة مشترياتك بنهاية المدة 86 دينار ، ما هو العائد الذي حققته ؟

ج- ليس لصاحب السهم العادي الاولوية في اموال الشركة .

د- لماذا لا تعد السوق الثانوية مصدر جديد للتمويل ؟

هـ- بماذا تتميز السندات الخضراء عن السندات التقليدية ؟

و- ما المقصود بخصائص التوقيت ؟

ز- في اطار كفاءة اسواق المال تعد المعلومة رسالة تغير اسعار السهم العادي فقط .

ك- كيف يتعامل المستثمر في اسواق المال غير الكفوة ؟

س4) كان صافي الدخل لشركة القانت عام 2021 ثلاثة مليون دينار و عدد الاسهم التي تم تداولها 500000 سهم ، و الشركة وزعت ارباح بنسبة 30% و كان معدل العائد المطلوب 18% .

احسب القيمة الحقيقية للسهم في الحالات الاتية :-
أ- حالة النمو الصفري .

ب- حالة النمو الثابت 6%

ج- حالة النمو المتعدد عندما كان معدل النمو 30% للسنتين الاولى و معدل نمو مستقبلي 9% علما بان معدل الفائدة للقيمة الحالية لمعدل نمو 12% للسنة الاولى

0.650 و للسنة الثانية 0.820 (13)

س5) افترضت احدى الشركات من خلال اصدار مجموعة من السندات بثلاث سنوات و بواقع 1200 و 1800 و 500 سند و لمدة 1460 يوم و بسعر اسمي ثلاثين دينار و بفائدة يومية 0.00004 وعمولة المصرف 2% و تكاليف الرهن 800 دينار و تكاليف الاصدار 1700 دينار . احسب معدل التكلفة موضحا الجدوى من ذلك .(13)

مع تمنياتنا لكم بالنجاح

أ.د. منتظر فاضل سعد
رئيس القسم

أ.د. احمد جاسم محمد
مدرس المادة



Course name: English third stag M&E vining study , Date: / / 2023, Total Mark: 50, Time: 2 H

Name -----no: -----

Answer just four questions

Q1 : Choose the correct answer:

- 1- The pilot flies the ----- from Heathrow Airport (a- plan b- plane c- plaen)
- 2- This is the ----- interesting story in library . (a-most b– more c– not d– than)
- 3- Jamal likes swimming, ----- he dislikes running . (a-and b– so c– because d– but)
- 4- The human body temperature is ----- (a- 30 b- 38 c- 37)
- 5- we are ----- the way to the mall (a- in b- on c- at)
- 6- Newton was born ----- 1643_. (a- in b- on c- at)
- 7- He took my photo while I ----- dinner . (a-was have b– have c– was having)
- 8- An adjective can be transformed into an adverb after adding it---- (a- ly b- y c– er)
- 9- Children ----- hate chocolate are uncommon. (a-whom b- who –c- whose)
- 10- What's the name of the girl ----- car you borrowed (a-who b– whom c– whose)

Q2 : write just one

A- Write an article (150 -200 words) about Finance . the concept , Finance and what are its types.

B- Write an article (150 -200 words) about bank . the concept , What are the types of banks and what is their role in the economy ?

Q3 / answer the finance questions

1. What are the long-term and short-term financial instruments in the money markets?
2. Talk about specialized banks briefly ?
3. What is the difference between global and regional financial system and corporate system?

Q4: Put in the blanks one of the words in brackets (*those – at – you – than –but – while – on – in - their – me*)

- 1- A dog is faster ----- an elephant
- 2- Jamal likes swimming, ----- he dislikes running
- 3- ----- he was working, he often listened to music.
- 4- ----- used for the far plural.
- 5- She went to the zoo ----- half-past six
- 6- I saw him ----- Damascus
- 7- *Omar and Ali eat ----- breakfast every day*
- 8- I don't know that word . give ---- a dictionary , please .
- 9- Look at ----- , your clothes are black .

Q6 : Explain the underlined word (noun – verb – adverb – adjective – preposition – pronoun – conj. - ... articles

- 1- Children who hate chocolate are uncommon.
- 2- They live in a house whose roof is full of holes.
- 3- An elephant is an animal that lives in hot countries.
- 4- Let's go to a country where the sun always shines.
- 5- The reason why I came here today is not important.
- 6- I visited Syria. It is on the eastern coast of the Mediterranean .
- 7- May is a month when we take a holiday.
- 8- Accounting which is one of the branches of commerce .
- 9- the results of the transactions to various parties, namely proprietors, creditors and potential investors .
- 10- It records the business transactions taking place during the accounting period and communicates the results of the transactions to various parties .

Good Luck

Assist Prof. Dr. Radhi Obaid
Course instructor

Prof. Dr. Muntadar saad Albattat
Head, Department of Finance



ملاحظة : الاجابة عن اربعة اسئلة فقط وتوزع الدرجات بالتساوي

س1 // اختر رمز الاجابة الصحيحة لكل من النقاط الاتية :

1. من مميزات الشكل الاعتيادي لنموذج البرمجة الخطية هي:

- أ- دالة الهدف من نوع Min Cost .
 ب- قيود النموذج من نوع المساواة .
 ج- قيود النموذج من نوع اكبر او يساوي .
 د- لا شيء مما ذكر .

2. اذا علمت ان الكميات المباعة من قبل شركة النور والتي تقوم بإنتاج نوعان من السلع هي 100 وحدة للنوع

الاول و 50 وحدة للنوع الثاني ، واذا علمت ايضا ان دالة الهدف الخاصة بالشركة كانت على النحو الاتي

 $Max Profit = 2X_1 + 4X_2$ فما مقدار الكلفة الكلية :

- أ- 400 دولار .
 ب- 200 دولار .
 ج- 450 دولار .
 د- لا شيء مما ذكر .

3. يتم اعتماد الطريقة البيانية في حل مسائل البرمجة الخطية في حال :

- أ- احتواء النموذج على متغيرين فقط .
 ب- احتواء النموذج على اكثر من متغيرين .
 ج- احتواء النموذج على متغير واحد .
 د- لا شيء مما ذكر .

4. المتغير الخارج في الطريقة المبسطة (Simplex Method) هو المتغير :

- أ- الذي يقابل اعلى رقم سالب في R.H.S .
 ب- الذي يقابل اكبر رقم سالب في صف Z .
 ج- الناتج من خلال قسمة R.H.S على المتغير الداخل واختيار اقل حاصل قسمة د- لا شيء مما ذكر .

5. دالة الهدف الاتية خاصة بشركة الفردوس $Min cost = 5X_1 + 12X_2$ الى ماذا يشير الرقم 5 :

- أ- ربح الوحدة الواحدة من السلعة الاولى .
 ب- كلفة انتاج الوحدة الواحدة من السلعة الاولى .
 ج- كلفة انتاج الوحدة الواحدة من السلعة الثانية .
 د- لا شيء مما ذكر .

6. من شروط الشكل المعياري لنموذج البرمجة الخطية هو :

- أ- الطرف الايمن من القيد قيمة موجبة .
 ب- دالة الهدف من نوع Max Profit .
 ج- جميع القيود الخاضعة لها دالة الهدف من نوع مساواة .
 د- كل ما ذكر صحيح .

س2 // جد الحل الامثل لنموذج البرمجة الخطية الاتي باستخدام الطريقة المبسطة (Simplex Method) :

$$Max Profit = 30X_1 + 18X_2$$

s.to

$$X_1 + 2X_2 \leq 200$$

$$3X_1 + 2X_2 \leq 300$$

$$X_1, X_2 \geq 0$$

س3 // اذا توفرت لديك المعطيات الاتية عن نموذج البرمجة الخطية ادناه والخاص بشركة المعراج :

$$\text{Max Profit} = 10X_1 + 15X_2$$

s.to

$$2X_1 + 4X_2 \leq 16$$

$$10X_1 + 5X_2 \leq 50$$

$$X_1, X_2 \geq 0$$

المطلوب : بيان الحجم الامثل الذي يمكن ان تنتجه شركة المعراج من كلا السلعتين والذي يحقق اعلى ربح باستخدام الطريقة البيانية .

س4 // شركة البصرة المتخصصة في صناعة الحقائب والتي تقوم بإنتاج نوعين من الحقائب ، حيث انها تحقق ربح مقداره (4 دولار) من النوع الثاني و (2 دولار) من النوع الاول ، ولدى الشركة ثلاث اقسام للإنتاج هي A ، B ، C ، فاذا علمت ان الشركة لديها ما لا يزيد عن 120 ساعة عمل في القسم A وما يساوي 140 ساعة عمل في القسم B وما لا يزيد عن 130 ساعة عمل في القسم C ، حيث ان النوع الاول من الحقائب يحتاج الى 4 ساعة في القسم A و6 ساعة في القسم B و3 ساعة في القسم C ، بينما النوع الثاني من الحقائب يحتاج الى 2 ساعة في القسم A و4 ساعة في القسم B وساعة واحدة في القسم C .

المطلوب : صياغة النموذج الرياضي للشركة ؟

س5 // شركة النرجس تقوم بإنتاج سلعتين ، حيث تربح الشركة من بيع السلعة الاولى (3 دولار) ومن السلعة الثانية (5 دولار) .

علماً ان السلعة الاولى بحاجة الى (2 ساعة) في المرحلة الانتاجية الاولى و(5 ساعة) في المرحلة الانتاجية الثانية ، بينما السلعة الثانية بحاجة الى (3 ساعة) في المرحلة الانتاجية الاولى و(4 ساعة) في المرحلة الانتاجية الثانية ، حيث ان لدى الشركة ما لا يزيد عن 30 ساعة عمل في المرحلة الانتاجية الاولى وما لا يزيد عن 60 ساعة عمل في المرحلة الانتاجية الثانية .

المطلوب :

بيان الحجم الامثل الذي يمكن ان تنتجه الشركة من كلا السلعتين باستخدام الطريقة المبسطة (Simplex Method)

مع تمنياتنا لكم بالنجاح

أ.د. منتظر فاضل سعد
رئيس القسم

م.م. عبدالله محمد راضي
مدرس المادة

م.م. حسن حيدر المبارك
مدرس المادة

المادة: محاسبة تكاليف
المرحلة: الثالثة
التاريخ: ٢٠٢٣/١/٣
الزمن: ساعتان



أسئلة امتحان الفصل الأول
للعام الدراسي ٢٠٢٢/٢٠٢٣
الدراسات الصباحية والمسائية
المدور الأول



جامعة البصرة
كلية الإدارة والاقتصاد
قسم العلوم المالية
والمصرفية

ملاحظة: الإجابة على أربعة أسئلة فقط، وتوزع الدرجة بالتساوي [١٢,٥ درجة لكل سؤال]

- س١- أجب بصح أم خطأ لكل مما يأتي، مع تصحيح ما تحته خط إن وجد: [الإجابة عن ثمانية]
- ١- تعد تكلفة الخدمات المباعة من أوجه التكامل بين المحاسبة المالية ومحاسبة التكاليف.
- ٢- المحاسبة نشاط رئيسي في المصارف وهذا يجب أخذه بنظر الاعتبار عند تحديد وحدات التكلفة.
- ٣- عدم جدوى الاعتماد على نظرية التكاليف الكلية في تسعير الخدمات المصرفية في الأجل الطويل.
- ٤- يقصد باستقلالية وحدة التكلفة هو عدم تأثرها بأي عامل عدا عدد الخدمات.
- ٥- تمثل التكلفة الأولية مجموع التكاليف الإنتاجية المتغيرة والثابتة.
- ٦- الخدمات تنتج وتقدم في آن واحد وينتج عن ذلك اختلاف صافي الربح بين نظريات التكاليف.
- ٧- نقطة التعادل هي النقطة التي عندها تتعادل التكاليف المتغيرة مع التكاليف الثابتة.
- ٨- يفضل فصل سجلات محاسبة التكاليف عن سجلات المحاسبة المالية لأنه يحقق مرونة في استخدام السجلات.
- ٩- العلاقة بين التكاليف الدورية وحجم النشاط غير مباشرة.
- ١٠- المساهمة الحدية هي الفرق بين سعر البيع للوحدة الواحدة ومتوسط التكلفة الكلية للوحدة.

س٢- فيما يلي البيانات المستخرجة من سجلات احد المصارف التجارية لشهر أيلول / ٢٠٢١ :

البيانات	القيمة
رواتب الإدارة العامة للمصرف	٦٨٠٠٠
رواتب موظفي الأقسام الفنية	١٢٨٠٠٠
رواتب مشرفي الأقسام الفنية	٣٤٠٠٠ (٥٠% ثابتة)
رواتب قسم التسويق	٥٠٠٠٠ (٣٠% متغيرة)
ثانيا- الفوائد والعمولات المدينة	٢٣٢٠٠٠
ثالثا- مواد و مصروفات أخرى	٢٠٠٠٠ (٦٠% متغيرة)
قرطاسيه متنوعة للأقسام الفنية	٢٠٠٠٠ (٧٠% ثابتة)
مواد صيانة	١٦٠٠٠
قرطاسيه ومواد مختلفة للإدارة	١٥٠٠٠ (توزع بالتساوي بين الأقسام)
م.كهرباء	٢٤٠٠٠ (توزع بالتساوي بين الأقسام)
اندثار أصول ثابتة	١٤٠٠٠
ضرائب عقارية	١٢٠٠٠
تأمين أمناء الصندوق	١٨٠٠٠
م.إعلان	٧٤٠٠٠٠
خامسا- الفوائد والعمولات الدائنة	٧٤٠٠٠٠

المطلوب ١// تبويب عناصر التكاليف أعلاه تبويبا وظيفيا وحسب علاقتها بوحدة الخدمة المصرفية وحجم النشاط.

٢- إعداد كشف الدخل على وفق النظرية المتغيرة .

س٣- أجب عن أحد الفرعين :

١- أكمل معلومات الجدول التالي ، مع بيان المعادلات المستخدمة لاستخراج كل قيمة :

حجم النشاط	التكاليف الكلية	صافي الربح (الخسارة)	متوسط التكلفة المتغيرة	مجموع التكاليف الثابتة	سعر البيع للوحدة	الإيرادات الكلية
٢٥٠	٦٨٠٠٠	صفر	?	?	?	?
٢٨٠	٧٤٠٠٠	?	?	?	?	?

على افتراض بقاء متوسط الكلفة المتغيرة ، التكاليف الثابتة ، سعر البيع (كما هي خلال المدى الملائم والذي يبدأ من الصفر ولغاية ٥٠٠ وحدة .

ب- إذا كان حجم النشاط عند نقطة التعادل ٤٠٠ وحدة والمساهمة الحدية ٤٨٠٠٠ دينار وهي تشكل ٥٠% من سعر البيع . احسب حجم النشاط الذي يحقق صافي ربح قدره ٣٦٠٠٠ دينار، وما مقدار الإيرادات الكلية التي تحقق الربح المستهدف؟

س٤- فيما يلي البيانات الخاصة بفرع أحد المصارف التجارية للربع الأول من عام ٢٠٢١ :
عدد الخدمات المقدمة للعملاء ٦٥٠ خدمة مصرفية ، بلغ متوسط عمولة الخدمة (٣٠٠) دينار للخدمة الواحدة .
بلغت تكاليف إنتاج الخدمات المصرفية لهذا الشهر :

٤٤٢٠٠	رواتب الأقسام الفنية
٥٠٠٠٠	فوائد وعمولات مدينة
١٤٠٠٠ (٥٠% ثابتة)	قرطاسيه للأقسام الفنية
١٢٠٠٠ (٢٠% ثابتة)	مواد الصيانة
٨٠٠٠ (٧٠% متغيرة)	م. كهرباء
٢٥٠٠	اندثار الأصول
١٥٠٠	م. تأمين

٣- بلغت حصة الفرع من التكاليف التسويقية ٢٨٠٠٠ (٤٠% ثابتة) .

٤- بلغت حصة الفرع من التكاليف الإدارية والتمويلية ٢٢٠٠٠ .
المطلوب // إعداد قائمتي التكاليف والدخل على وفق نظرية التكاليف الكلية .

س٥- فيما يلي بيانات التكاليف الخاصة بفروع أحد المصارف التجارية لشهر أب/٢٠٢١ :

أولاً- التكاليف المتغيرة للخدمة الواحدة :-

تكاليف إنتاج مباشرة : فوائد وعمولات ٤٠ ، رواتب وأجور ٥٠ ، تكاليف إنتاج غير مباشرة ٢٥
تكاليف تسويقية ١٥ ، تكاليف إدارية ١٠


ثانياً- التكاليف الثابتة الإجمالية: إنتاجية ٤٥٠٠٠ ، تسويقية ٧٥٠٠٠ ، إدارية ١٨٠٠٠٠ .

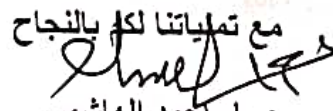
ثالثاً- بلغ متوسط العمولة والفوائد الدائنة (سعر البيع) ٢٤٠ دينار .


رابعاً- ترغب الإدارة في الحصول على صافي ربح لشهر أيلول مقداره ١٢٠٠٠٠٠ دينار .

المطلوب // ١- ما هو حجم النشاط الذي يحقق الربح المستهدف ؟

٢- إعداد قائمة التكاليف المتوقعة لشهر أيلول على وفق نظريتي التكاليف الكلية والمتغيرة .


أ. د. منتظر فاضل سعد
رئيس القسم

مع تلميحاتنا لكم بالنجاح

م. حسام أحمد الهاشمي
مدرس المادة


م. خديجة كاظم التميمي
مدرسة المادة

جامعة البصرة

كلية الإدارة والاقتصاد

قسم العلوم المالية والمصرفية

الدراسات الصباحية والمسائية



المرحلة : الثالثة

المادة : محفظة استثمارية

التاريخ : / / 2022

الوقت : ساعتان

أسئلة الامتحان النهائي / الكورس الاول

الاسم الرقم الشعبة

ملاحظة // الإجابة عن خمسة أسئلة فقط لكل سؤال 10 درجات.

س1: أ- ماهي الأسباب التي زادت من الاهتمام بالمحافظ الاستثمارية؟

ب- ما هي اهم أنواع المحافظ الاستثمارية وضحها بالتفصيل؟

س2: أ- كيف يتم تحليل الاستثمارات من خلال التحليل الاقتصادي للسياسة المالية والسياسة النقدية، وضح ذلك؟

ب- وضح بالتفصيل اهم القرارات التي تتخذها إدارة المحفظة الاستثمارية؟

س3: أ- تم شراء سهم بمبلغ (\$4.5) وبعد اربع سنوات تم بيعه بمبلغ (\$6) وحصل المستثمر على ربح قدرة

(\$0.750) للسهم الواحد، احسب مقدار العائد الذي حققه المستثمر على السهم المذكور خلال فترة الاحتفاظ به؟

ب- ما هي اهم السلبيات التي سجلت على التنويع الساذج؟

س4: أ- وضح بالتفصيل كيف صنف ماركويتز المستثمرين حسب العلاقة بين العائد والمخاطر بوجود المنفعة؟

ب- ما هي اهم فرضيات نموذج (CAMP) وضحها بالتفصيل؟

س5: أ- لديك محفظتين استثماريتين A,B وكانت المعلومات المتوفرة بالشكل التالي:

معدل العائد الخالي من المخاطر (6%)، معامل بيتا للمحفظة A (2.4) ومعامل بيتا للمحفظة B (0.98) والعائد

المتوقع لمحفظة السوق (11%). بين أي من المحافظتين ستختار ولماذا؟

ب- ما هي اهم المبادئ الأساسية التي على أساسها يتم تقييم أداء المحفظة الاستثمارية حسب نموذج شارب؟

س6: أ- ما هي اهم خصائص المشتقات المالية؟

ب- في 2018/1/1 اشترى مستثمر عقد مستقبلي بهدف المضاربة في سوق الذهب بمبلغ (\$300000)

وكان سعر الذهب في السوق الحاضرة (\$800) للاونصة الواحدة ويتوقع المضارب ان يرتفع سعر الذهب الى

(\$840) بينما كان سعر الذهب في العقود المستقبلية تسليم 2018/12/31 (\$825) للاونصة الواحدة والعقد

بنسبة هامش مبدئي يدفع للوسيط قدره (10%) من قيمة العقد ، ماهو موقف المستثمر اذا حصل ارتفاع في سعر

الذهب في السوق الحاضرة الى (\$840) وفي السوق المستقبلية الى (\$850) ؟

مع تمنياتي لكم بالنجاح

أ.د. منتظر فاضل سعد

رئيس القسم ومدرس المادة

م.م. عذراء جاسب عبادي

مدرسة المادة

ملاحظة: اجب عن اربعة اسئلة فقط على ان يكون السؤال الاول من ضمنها.

السؤال الاول: شركة البصرة تبلغ فيها تكلفة أحد المنتجات 10 دولار ويباع بسعر يعادل مرة ونصف من تكلفة الانتاج وقد ثبت من الاحصائيات أن هناك ما نسبته 10% من الانتاج هو انتاج معيب، ويتم رده من قبل العملاء وتبلغ نفقات الاسترداد التي تتحملها الشركة تعادل 80% من تكلفة الانتاج. علما بان الانتاج الفصلي يبلغ 5,000 وحدة وقد وجدت الشركة اسلوب لمعالجة هذه المشكلة من خلال انشاء نظام آلي لفحص الجودة ويقوم هذا النظام بتصنيف 6% من المنتجات الجيدة على انها منتجات معيبة (أي أن نسبة الوحدات التي يتم بيعها من الوحدات الجيدة 94%) وتبلغ تكلفة هذا النظام 500 دولار كل ستة أشهر. المطلوب: حساب قيمة المعلومة وهل تنصح بشراء النظام؟ (14 درجة)

السؤال الثاني: اجب عن الفرعين دون ان تترك أحدهما؟ (لكل فرع 6 درجات)

أ- هنالك ثلاث مستويات ادارية يتم التعامل معها داخل المصرف اذكرها ثم وضح كل مما يلي:
طبيعة الاهداف التي تسعى لتحقيقها؟ - نوع المعلومات المستخدمة؟ - نوع الانظمة التي تتلائم معها؟

ب- وضح مفهوم مخططات تدفق البيانات (DFD) Data Flow Diagram مع ذكر انواعها وتوضيح الغرض من استخدام كل واحدة منها؟

السؤال الثالث: اجب عن فرعين فقط (لكل فرع 6 درجات)

أ- وضح المفهوم اولا ثم قارن بين نظم المعلومات المحاسبية AIS ونظم المعلومات المصرفية BIS؟

ب- وضح مفهوم الـ ERP مع ذكر عوامل النجاح وأسباب الفشل؟

ج- وضح خطوات الدورة المحاسبية باختصار مع مراعاة تسلسلها؟

السؤال الرابع: اجب بكلمة صح او خطأ مع تصحيح الخطأ ان وجد. (12 درجة لكل نقطة درجتان)

- 1- الذكاء الاصطناعي artificial intelligence هو أحد تطبيقات نظام الخبرة المصرفي Experience system.
- 2- إذا كانت قيمة المعلومة \$ 6000 والمنافع الناجمة منها \$ 9,200 فإن ثمنها سيكون \$ 2,300.
- 3- ميزان المراجعة عبارة عن كشف بين الارصدة المدينة والدائنة ويتم استخراجها من خلال سجل اليومية العامة.
- 4- نظم المعلومات الادارية المصرفية (BMIS) هي النظم الاكثر ملائمة عند مستوى الادارة العليا.
- 5- شركة لوسن (LOWSON) هي من الشركات الرائدة في مجال تطبيقات ERP والتي توفر حلول حسب مقاس الشركات الصناعية.
- 6- حساب الايرادات والمصروفات من الحسابات الاسمية التي تظهر بقائمة المركز المالي.

السؤال الخامس: اختر الاجابة الصحيحة لكل مما يلي: (12 درجة لكل نقطة درجتان)

- 1- الفرق بين امن المعلومات وسرية المعلومات هو أن:
- أ- السرية تهتم بالمحتوى فقط بينما الامن يهتم في طريقة حفظ
ب- الامن يهتم بمحتوى المعلومة بينما السرية تهتم في طريقة حفظ
ج- لا يوجد فرق بين الاثنين
د - غير ذلك (اذكره)
- 2- هو أحد مكونات المجموعة المستندية والهدف منه تسجيل المبالغ النقدية والشيكات المدفوعة
- أ - قيد اليومية
ب - وصل القبض
ج - مستند الصرف
د - غير ذلك (اذكره)
- 3- يتمثل دور المحاسب في نظم المعلومات بأنه
- أ - مستخدم ومنتج للمعلومات
ب- مسؤول عن معالجة مشاكل نظم المعلومات
ج - أ + ب
د - غير ذلك (اذكره)
- 4- قيود يتم تسجيلها في نهاية الفترة المالية لغرض تحميل ما يخص الفترة المالية من ايرادات ومصروفات فعلية
- أ - قيود اقبال
ب- قيود تسوية
ج - أ + ب
د - غير ذلك (اذكره)
- 5- احد السلبيات التي تتواجد عند استخدام رموز المجموعات المتتابعة
- أ - مصاحبة هذه الرموز قائمة لشرح معانيها
ب- تعدد المقاطع وحدوث اخطاء في تركيب المقطع
ج - أ + ب
د - غير ذلك (اذكره)
- 6- خلال بيئة دورة التكنولوجيا المالية معظم الشركات الناشئة في مجال التكنولوجيا المالية لا تزال في مرحلة الافكار أو في المراحل الاولى وتمويل الشركات يجري ببطء ويكون ذلك خلال:
- أ - البيئة الحاضنة الناشئة
ب- البيئة الحاضنة المتقدمة
ج - أ + ب
د - غير ذلك (اذكره)

(مع تمنياتنا لكم بالنجاح)

رئيس القسم
أ.د. منتظر فاضل البطاط

مدرس المادة
م.م. احمد سامي الديراوي
م.م. احمد عبد الكريم الياسين